

Kierunek: Ekonomia

Największa wartość funkcji $f(x) = \frac{\ln x}{x}$ w przedziale $[1/e, 2\sqrt{2}]$ a) jest równa $1/e$, b) jest równa 1 , c) jest równa e , d) nie istnieje
A jest macierzą kwadratową o wyznaczniku 3. Wyznacznik macierzy odwrotnej jest równy: a) 3, b) -3, c) 1, d) $1/3$
Gradientem funkcji $f(x,y) = x^3 + 2xy^2$ w punkcie (1,2) jest wektor: a) [8,11], b) [11,8], c) [2,7], d) [0,1]
Całką nieoznaczoną $\int \frac{3x-4}{x^2-3x+2} dx$ jest: a) $\frac{3}{2x-3} + C$, b) $\ln x-1 + 2\ln x-2 + C$, c) $\ln\left \frac{x-1}{x-2}\right + C$, d) $\frac{2}{x-1} + \frac{1}{x-2} + C$
Zbiór rozwiązań układu równań: $\begin{aligned} x - y + z &= 1 \\ 2x - y + 3z &= -2 \\ 3x - 2y + 3z &= 0 \end{aligned}$ jest: a) jednoelementowy, b) trzejelementowy, c) nieskończony, d) pusty
Metoda Gaussa przekształceń elementarnych służy do: a) obliczania całek, b) obliczania pochodnych, c) obliczania granic, d) rozwiązywania układów równań liniowych.
Niech $A = \begin{bmatrix} 1 & 1 & 2 \\ 2 & 3 & 1 \\ 2 & 2 & 4 \end{bmatrix}$ oraz $B = AA^T$. Wówczas macierz B^{-1} : a) jest równa $\begin{bmatrix} 1 & 2 & 2 \\ 1 & 3 & 2 \\ 2 & 1 & 4 \end{bmatrix}$, b) jest równa $\begin{bmatrix} 1 & 1 & 2 \\ 0 & 3 & 1 \\ 0 & 1 & 4 \end{bmatrix}$, c) jest równa $\begin{bmatrix} 1 & 0 & 2 \\ 0 & 3 & 1 \\ 2 & 2 & 1 \end{bmatrix}$, d) nie istnieje
Całka oznaczona $\int_{-\pi}^{\pi} \sin x dx$ jest równa: a) 2π , b) -2 , c) 0 , d) 2
Granica ciągu $a_n = \frac{(3n^2-1)(n+2)}{3n-5n^4+7}$ jest równa: a) ∞ , b) $-\infty$, c) 1 , d) $-3/5$
Macierz $\begin{bmatrix} r & -4 & 2 \\ -1 & 2 & p \\ -1 & q & 1 \end{bmatrix}$ jest odwrotna do macierzy $\begin{bmatrix} 1 & 2 & 0 \\ 2 & 5 & 1 \\ 3 & 7 & 2 \end{bmatrix}$ dla parametrów p, q, r równych odpowiednio: a) 3, -1, 1, b) 3, -1, -1, c) -1, -1, 3 d) -3, 1, 1
W kasie A obsłużono 20 klientów i średni czas obsługi jednego klienta wyniósł 5 min. W kasie B średni czas obsługi wyniósł 10 min i obsłużono 10 klientów. Średni czas obsługi dla wszystkich 30 klientów wyniósł: a) 6,67 min

- b) 7,5 min
- c) 15 min
- d) 10 min

Średnia arytmetyczna jest odpowiednią miarą położenia gdy :

- a) rozkład cechy statystycznej jest dowolny
- b) rozkład cechy statystycznej jest rozkładem jednomodalnym
- c) rozkład cechy statystycznej jest skrajnie asymetryczny
- d) rozkład cechy statystycznej jest rozkładem wielomodalnym

Rozkład cechy statystycznej jest jednomodalny i zachodzi nierówność $\bar{x} > M_o$. Czy z tego wynika, że rozkład cechy jest:

- a) symetryczny
- b) o skrajnej asymetrii lewostronnej
- c) o umiarkowanej asymetrii lewostronnej
- d) o asymetrii prawostronnej

Rozkład cechy statystycznej jest jednomodalny i zachodzi nierówność $\bar{x} < M_o$. Czy z tego wynika, że rozkład cechy jest:

- a) symetryczny
- b) o skrajnej asymetrii prawostronnej
- c) o asymetrii lewostronnej
- d) o umiarkowanej asymetrii prawostronnej

Rozkład cechy statystycznej jest rozkładem o umiarkowanej asymetrii prawostronnej. Oznacza to, że:

- a) większość jednostek statystycznych ma wartości cechy mniejsze od średniej arytmetycznej
- b) większość jednostek statystycznych ma wartości cechy mniejsze od modalnej
- c) większość jednostek statystycznych ma wartości cechy większe od średniej arytmetycznej
- d) większość jednostek statystycznych ma wartości cechy większe od modalnej

Mediana jako miara położenia i odchylenie ćwiartkowe jako miara zmienności mają zastosowanie zawsze wtedy gdy rozkład cechy statystycznej:

- a) jest rozkładem jednomodalnym o umiarkowanej asymetrii prawostronnej
- b) jest rozkładem jednomodalnym symetrycznym
- c) nie jest rozkładem jednomodalnym
- d) jest rozkładem jednomodalnym o umiarkowanej asymetrii lewostronnej

Indeks cen według formuły Laspeyresa to agregatowy indeks cen, w którym wagą dla każdego dobra jest:

- a) bieżąca ilość
- b) cena z okresu podstawowego
- c) bieżąca cena
- d) ilość z okresu podstawowego

Indeks cen według formuły Paaschego to agregatowy indeks cen, w którym wagą dla każdego dobra jest:

- a) bieżąca cena
- b) ilość z okresu badanego
- c) cena z okresu podstawowego
- d) żadna z powyższych odpowiedzi nie jest prawdziwa

Jeśli indeks cen mieszkań w roku 2009 w porównaniu z 2008 wyniósłby 130 % oznaczałoby to, że:

- a) miał miejsce 130-procentowy wzrost cen mieszkań w latach 2008-2009
- b) zaobserwowano 30-procentowy wzrost cen mieszkań w roku 2009 w porównaniu do 2008

- c) cena mieszkania w 2009 roku była wyższa średnio o 130 tys. zł. za 1 metr kwadratowy
- d) nie jest możliwa interpretacja tego indeksu

Jeśli indeks cen mieszkań w roku 2009 w porównaniu z 2008 wyniósłby 95 % oznaczałoby to, że:

- a) miał miejsce 95-procentowy wzrost cen mieszkań w latach 2008-2009
- b) zaobserwowano 95-procentowy spadek cen mieszkań w roku 2009 w porównaniu do 2008
- c) cena mieszkania w 2009 roku była niższa średnio o 5tys. zł. za 1 metr kwadratowy
- d) żadna z powyższych odpowiedzi nie jest prawdziwa

Dla liniowej zależności zmiennej V od zmiennej niezależnej Y wyznaczono następujące składowe średnich błędów szacunku parametrów strukturalnych (S_a, S_b) : $S_e^2 = 2$, $\sum_{i=1}^{28} (y_i - \bar{y})^2 = 18$,

$\sum_{i=1}^{28} y_i^2 = 28$. Ile wynoszą średnie błędy szacunku parametrów strukturalnych?

- a) $S_a = \frac{1}{9}$; $S_b = \frac{1}{3}$;
- b) $S_a = \frac{18}{9}$; $S_b = \frac{28}{18}$;
- c) $S_a = \frac{1}{3}$; $S_b = \frac{1}{3}$;
- d) żadna z powyższych odpowiedzi nie jest prawdziwa.

Dla liniowej zależności zmiennej V od zmiennej niezależnej Y wyznaczono następujące składowe średnich błędów szacunku parametrów strukturalnych (S_a, S_b) : $S_e^2 = 2$, $\sum_{i=1}^{28} (y_i - \bar{y})^2 = 18$,

$\sum_{i=1}^{28} y_i^2 = 28$. Prawdą jest, że:

- a) $S_a^2 = \frac{1}{9}$;
- b) $S_b = \frac{28}{18}$;
- c) $S_a = \frac{1}{3}$; $S_b = \frac{1}{9}$;
- d) żadna z powyższych odpowiedzi nie jest prawdziwa.

Dla liniowego modelu zależności zmiennej Y od zmiennej X oszacowano parametry strukturalne. Wyznaczono również sumę reszt tego modelu. Wskaż, która wartość jest prawdziwa:

- a) $\sum_{i=1}^n e_i = 1$;
- b) $\sum_{i=1}^n e_i \rightarrow \max$;
- c) $\sum_{i=1}^n e_i = -1$;
- d) żadna z powyższych odpowiedzi nie jest prawdziwa.

Dla liniowego modelu zależności zmiennej Y od zmiennej X oszacowano parametry strukturalne. Wyznaczono również sumę reszt tego modelu. Wskaż, która wartość jest prawdziwa:

- a) $\sum_{i=1}^n e_i = 1$;

b) $\sum_{i=1}^n e_i \rightarrow \max ;$

c) $\sum_{i=1}^n e_i = 0 ;$

d) żadna z powyższych odpowiedzi nie jest prawidłowa.

Jaką własnością charakteryzują się reszty w modelu liniowym?

a) $\sum_{i=1}^n e_i = 0, \sum_{i=1}^n e_i^2 \rightarrow \min ;$

b) $\sum_{i=1}^n e_i = 1, \sum_{i=1}^n e_i^2 \rightarrow \min ;$

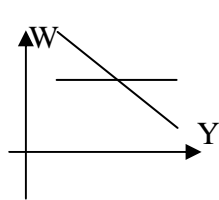
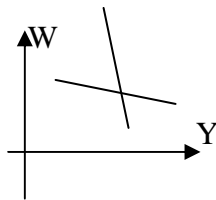
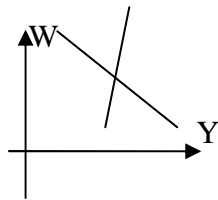
c) $\sum_{i=1}^n e_i^2 = 0, \sum_{i=1}^n e_i \rightarrow \min ;$

d) żadna z powyższych odpowiedzi nie jest prawidłowa.

Dla zmiennych W oraz Y wyznaczono współczynnik korelacji liniowej Pearsona równy $r_{yw} = -0,2$.

Wskaż prawidłowy wykres prezentujący parę linii regresji dla tych zmiennych:

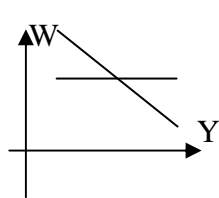
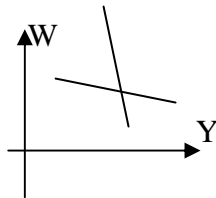
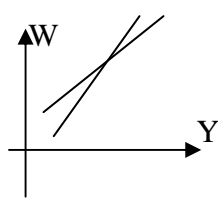
a) b) c) d) żaden z wykresów



Dla zmiennych W oraz Y wyznaczono współczynnik korelacji liniowej Pearsona równy $r_{yw} = 0,8$.

Wskaż prawidłowy wykres prezentujący parę linii regresji dla tych zmiennych:

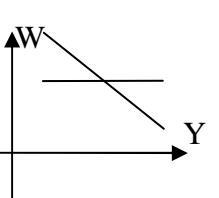
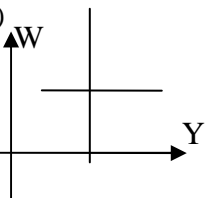
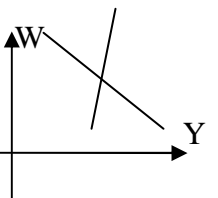
a) b) c) d) żaden z wykresów



Dla zmiennych W oraz Y wyznaczono współczynnik korelacji liniowej Pearsona równy $r_{yw} = 0$.

Wskaż prawidłowy wykres prezentujący parę linii regresji dla tych zmiennych:

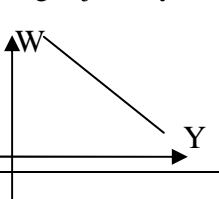
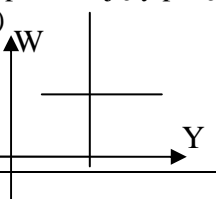
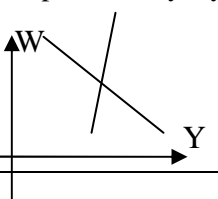
a) b) c) d) żaden z wykresów



Dla zmiennych W oraz Y wyznaczono współczynnik korelacji liniowej Pearsona równy $r_{yw} = -1$.

Wskaż prawidłowy wykres prezentujący parę linii regresji dla tych zmiennych:

a) b) c) d) żaden z wykresów



<p>Wiedząc, że $\sum_{i=1}^{10} x_i = 120$; $\sum_{i=1}^{10} y_i = 250$ oraz, że $r_{xy}^2 = 0,8$ wskaż cechy prawidłowego wykresu pary linii regresji zmiennych X i Y:</p> <ol style="list-style-type: none"> proste te pokrywają się i są nachylone dodatnio; proste te są nachylone dodatnio, kąt zawarty między nimi jest niewielki, przecinają się w punkcie $(x_i; y_i) = (120; 250)$; proste te są nachylone dodatnio, kąt zawarty między nimi jest niewielki, przecinają się w punkcie $(\bar{x}; \bar{y}) = (12; 25)$; żadna z powyższych odpowiedzi nie jest prawidłowa.
<p>W związku z informacją o przymrozkach w Kaliforni, cena pomarańczy na giełdzie wzrosła”. Wybierz odpowiedź precyzującą to zdarzenie.</p> <ol style="list-style-type: none"> wzrosła podaż pomarańczy spadł popyt na pomarańcze wzrósł popyt na pomarańcze spadła podaż pomarańczy
<p>Na których z wymienionych typów rynków przedsiębiorstwa nie mają nigdy wpływu na cenę swego produktu</p> <ol style="list-style-type: none"> rynek monopolistyczny rynek oligopolistyczny rynek doskonale konkurencyjny rynek konkurencji monopolistycznej
<p>Pomiędzy którymi z wymienionych typów przedsiębiorstw występuje konkurencja monopolistyczna?</p> <ol style="list-style-type: none"> przedsiębiorstwa z sieci Pizza hut hipermarkety księgarnie kancelarie radców prawnych
<p>Jeżeli porównamy rynek zmonopolizowany z rynkiem doskonale konkurencyjnym, to monopol jest nieefektywny, ponieważ:</p> <ol style="list-style-type: none"> krzywa monopolisty jest względnie płaska ceny w monopolu są wyższe monopolista produkuje więcej monopolista maksymalizuje nadwyżkę konsumenta
<p>Która z następujących cech nie charakteryzuje rynku o konkurencji doskonałej?</p> <ol style="list-style-type: none"> heterogeniczny produkt wszyscy sprzedają po tej samej cenie doskonała przejrzystość brak barier wejścia i wyjścia
<p>Jakim dobrem jest dla Eli pasztet, jeżeli po wzroście jej dochodów z 1000 zł miesięcznie do 1100 zł miesięcznie zaczęła kupować o 60% więcej pasztetu?</p> <ol style="list-style-type: none"> podręcznym substytucyjnym elastycznym luksusowym
<p>Popyt na marchew jest nieelastyczny. W związku z tym, jeżeli marchew potanieje, to nabywcy:</p> <ol style="list-style-type: none"> będą jej kupowali niewiele więcej niż teraz będą jej kupowali niewiele mniej niż teraz będą jej kupowali dużo więcej niż teraz będą jej kupowali dużo mniej niż teraz
<p>Niepełny monopol oferenta to rynek, na którym jest:</p> <ol style="list-style-type: none"> jeden oferent i wielu nabywców kilku oferentów i wielu nabywców

<ul style="list-style-type: none"> c) jeden oferent i kilku nabywców d) jeden oferent i wielu nabywców, ale oferent jest kontrolowany przez państwo
<p>Optymalna wielkość produkcji przedsiębiorstwa to:</p> <ul style="list-style-type: none"> a) wielkość produkcji przy której przedsiębiorstwo osiąga największy zysk b) maksymalna wielkość produkcji jaką może ono wytworzyć c) średnia wielkość produkcji jaka wytwarzana jest w przedsiębiorstwie d) wielkość produkcji gwarantująca osiągnięcie dodatnich zysków
<p>Jakim dobrem jest dla pewnego konsumenta piwo, jeżeli zauważył on, że czym więcej zarabia, tym mniej go pije?:</p> <ul style="list-style-type: none"> a) substytucyjnym b) podrzędnym c) luksusowym d) wolnym
<p>Pojedynczy bank komercyjny kreuje pieniądź:</p> <ul style="list-style-type: none"> a) przyjmując spłatę kredytu b) udzielając kredytu c) w większym stopniu niż cały system bankowy d) żadna odpowiedź nie jest prawdziwa
<p>Założmy, że bank centralny ustala stopę rezerw obowiązkowych dla banków komercyjnych równą 100%. Oznacza to, że:</p> <ul style="list-style-type: none"> a) bank centralny całkowicie kontroluje podaż pieniądza b) mnożnik kreacji pieniądza będzie równy zero c) mnożnik kreacji pieniądza będzie ujemny d) odpowiedzi a i b są prawdziwe
<p>Jeżeli baza monetarna wynosi 40 mld PLN, natomiast mnożnik kreacji pieniądza wynosi 2, wtedy podaż pieniądza jest równa:</p> <ul style="list-style-type: none"> a) 20 mld PLN b) 80 mld PLN c) 100 mld PLN d) nie można obliczyć na podstawie podanych informacji
<p>Zmiany stopy procentowej od obligacji wywierają wpływ na popyt na pieniądź wywołany motywem:</p> <ul style="list-style-type: none"> a) transakcyjnym b) przezornościowym c) spekulacyjnym d) wszystkimi wymienionymi motywami
<p>Które z poniższych działań banku centralnego mogą ograniczyć kreację pieniądza?</p> <ul style="list-style-type: none"> a) sprzedaż obligacji rządowych, obniżenie rezerw obowiązkowych i wzrost stopy dyskontowej b) skup obligacji rządowych, wzrost rezerw obowiązkowych i wzrost stopy dyskontowej c) skup obligacji rządowych, obniżenie rezerw obowiązkowych i wzrost stopy dyskontowej d) sprzedaż obligacji rządowych, wzrost rezerw obowiązkowych i wzrost stopy dyskontowej
<p>W modelu Keynesa krańcowa psychologiczna skłonność do oszczędzania może przyjmować wartość:</p> <ul style="list-style-type: none"> a) 0,5 b) 2 c) 10 d) odpowiedzi a i b są prawidłowe
<p>Oprocentowanie podstawowych operacji otwartego rynku jest określone przez najważniejszą ze stóp NBP:</p>

<ul style="list-style-type: none"> a) stopę referencyjną b) stopę lombardową c) stopę depozytową d) stopę dyskontową
<p>Jeżeli stopa inflacji spada:</p> <ul style="list-style-type: none"> a) ceny spadają b) ceny pozostają bez zmian c) ceny rosną, ale wolniej d) żadna z odpowiedzi nie jest prawidłowa
<p>Restrykcyjna polityka fiskalna polega na:</p> <ul style="list-style-type: none"> a) ograniczeniu przez państwo wydatków i podniesieniu podatków b) zwiększeniu przez państwo wydatków i podniesieniu podatków c) ograniczeniu przez państwo wydatków i obniżeniu podatków d) zwiększeniu przez państwo wydatków i obniżeniu podatków
<p>Gdy w gospodarce zamkniętej bez sektora publicznego krańcowa psychologiczna skłonność do oszczędzania wynosi 0,5, to mnożnik Keynesa jest równy:</p> <ul style="list-style-type: none"> a) 5 b) 2 c) 10 d) 50
<p>Negatywne skutki zdarzeń losowych zaliczamy do:</p> <ul style="list-style-type: none"> a) kosztów finansowych, b) strat nadzwyczajnych, c) pozostałych kosztów operacyjnych, d) kosztów operacyjnych,
<p>W wyniku pionowego podziału kont powstają konta:</p> <ul style="list-style-type: none"> a) korygujące i korygowane, b) analityczne i syntetyczne, c) główne i poboczne, d) żadna z odpowiedzi nie jest prawidłowa,
<p>W wyniku poziomego podziału kont powstają konta:</p> <ul style="list-style-type: none"> a) korygujące i korygowane, b) analityczne i syntetyczne, c) główne i poboczne, d) żadna z odpowiedzi nie jest prawidłowa,
<p>Koszty układy rodzajowego to m.in.:</p> <ul style="list-style-type: none"> a) amortyzacja, usługi obce, b) koszty zarządu, amortyzacja, c) wynagrodzenia, koszty sprzedaży, d) koszty sprzedaży, koszty zarządu,
<p>Wynik finansowy netto roku obrotowego jest składnikiem:</p> <ul style="list-style-type: none"> a) kapitałów obcych, b) rezerw, c) aktywów, d) kapitałów własnych,
<p>Należności o terminie spłaty powyżej 12 miesięcy klasyfikuje się w bilansie w jako:</p>

- a) należności długoterminowe,
- b) należności krótkoterminowe,
- c) inwestycje długoterminowe,
- d) inwestycje krótkoterminowe,

Weksle obce w bilansie klasyfikuje się jako:

- a) należności krótkoterminowe,
- b) inne środki pieniężne,
- c) wartości niematerialne i prawne,
- d) środki pieniężne na rachunku bankowym,

Grunty zakupione celem lokaty kapitału to:

- a) inwestycje długoterminowe,
- b) inwestycje krótkoterminowe,
- c) środki trwałe,
- d) wartości niematerialne i prawne,

Wystawiony weksel własny o terminie wykupu 30 dni wykazuje się w bilansie jako:

- a) inne środki pieniężne,
- b) inwestycje długoterminowe,
- c) należności krótkoterminowe,
- d) zobowiązania krótkoterminowe,

Jeżeli przedsiębiorstwo grupuje koszty tylko według rodzaju to sporządza rachunek zysków i strat w wariantach:

- a) porównawczym,
- b) kalkulacyjnym,
- c) porównawczym lub kalkulacyjnym,
- d) żadna z odpowiedzi nie jest prawidłowa,

Eklektyczna teoria międzynarodowej produkcji (Duninga) to inaczej:

- a) Paradygmat OLI
- b) Teoria międzynarodowego cyklu życia produktu
- c) Teoria lokalizacji
- d) Teoria internalizacji

Niskie koszty siły roboczej można uznać za przykład motywu internacjonalizacji:

- a) Kosztowego
- b) Zaopatrzeniowego
- c) Rynkowego
- d) Politycznego

Do form internacjonalizacji nie można zaliczyć:

- a) Franchisingu
- b) Licencjonowania
- c) Triady
- d) Eksportu

Dodatni eksport netto:

- a) powoduje zwiększenie PKB danego kraju
- b) powoduje przyrost zapasów
- c) jest bezpośrednio zależny od konsumpcji prywatnej

d) nie ma żadnego wpływu na PKB danego kraju
Wskaż fałszywe stwierdzenie: a) eksport towarów wliczany jest do rachunku obrotów bieżących b) transfery prywatne są wliczane do rachunku obrotów bieżących c) eksport usług niefinansowych jest wliczany do rachunku obrotów bieżących d) inwestycje bezpośrednie są wliczane do rachunku obrotów bieżących
Autorem teorii cyklu życia produktu był: a) Dunning b) Tesch c) Aliber d) Vernon
Triada ekonomiczna to: a) USA, Japonia i Chiny b) USA, Europa i Chiny c) USA, Japonia i Europa d) USA, Chiny i Rosja
Cechą odróżniającą inwestycje portfelowe od bezpośrednich inwestycji zagranicznych jest: a) uzyskanie przede wszystkim jak największych dochodów b) większa dywersyfikacja ryzyka, uzyskanie jak największych dochodów c) tylko większa dywersyfikacja ryzyka d) wywieranie wpływu na zarządzanie przedsiębiorstwem, którego akcje czy udziały zostały zakupione
Podstawową formą handlu zagranicznego jest: a) tylko eksport b) tylko import c) eksport i import towarów d) eksport i import towarów i usług
Które czynniki nie są przyczyną internacjonalizacji przedsiębiorstwa: a) czynniki technologiczno-kosztowe b) czynniki socjo-ekonomiczne c) czynniki polityczne d) czynniki historyczne
Mimo niezachowania formy pisemnej dla celów dowodowych dowód z zeznań świadków lub przesłuchania stron na okoliczność zawarcia umowy jest dopuszczalny, gdy: a) fakt dokonania czynności będzie uprawdopodobniony za pomocą pisma b) jeżeli jedna ze stron wyrazi na to zgodę c) jeżeli istnieje dowód na istnienie umowy w postaci nagrania video d) jeżeli notariusz lub prokurator wyrazi na to zgodę
W myśl przepisów prawa cywilnego przedstawicielem jest: a) sąd b) obrońca oskarżonego c) pełnomocnik d) babcia sprawująca faktyczną opiekę nad wnukiem dla tego wnuka
Pełnomocnictwo do sprzedaży nieruchomości musi być udzielone: a) w formie ustnej b) w formie dowolnej c) w formie aktu notarialnego

d) w formie pisemnej
<p>Wady oświadczenia woli skutkujące nieważnością względną to:</p> <ul style="list-style-type: none"> a) brak świadomości lub swobody b) pozorność c) błąd d) żadna z powyższych
<p>Błąd to:</p> <ul style="list-style-type: none"> a) bezpośrednia presja fizyczna b) mylne wyobrażenie o rzeczywistym stanie c) oświadczenie złożone dla pozorów d) przymus psychiczny
<p>W przypadku złożenia oświadczenia woli dla pozorów, czynność prawna dysymulowana (ukryta):</p> <ul style="list-style-type: none"> a) jest zawsze ważna b) jest zawsze nieważna c) jest ważna, jeżeli jest ważna czynność pozorna d) jest ważna, jeżeli są spełnione przesłanki ważności dla tej czynności dysymulowanej
<p>Roszczenie związane z prowadzeniem działalności gospodarczej stwierdzone prawomocnym orzeczeniem Sądu przedawnia się po:</p> <ul style="list-style-type: none"> a) 1 roku b) 3 latach c) 5 latach d) 10 latach
<p>Podstawowy okres przedawnienia roszczeń związanych z działalnością gospodarczą wynosi:</p> <ul style="list-style-type: none"> a) 1 rok b) 3 lata c) 5 lat d) 10 lat
<p>Zobowiązanie, w którym roszczenie się przedawniło:</p> <ul style="list-style-type: none"> a) wygasa b) przekształca się w zobowiązanie natychmiast wymagalne c) przekształca się w zobowiązanie wzajemne d) przekształca się w zobowiązanie naturalne
<p>Bieg przedawnienia ulega przerwaniu wskutek:</p> <ul style="list-style-type: none"> a) uznania roszczenia przez dłużnika b) siły wyższej c) wezwania dłużnika do zapłaty d) zawieszenia jego biegu
<p>Minimum socjalne to linia ubóstwa:</p> <ul style="list-style-type: none"> a) ustawowego b) relatywnego c) absolutnego d) subiektywnego
<p>Zaznacz zdanie nieprawdziwe:</p> <ul style="list-style-type: none"> a) kwestie społeczne odznaczają się szczególną dotkliwością dla potencjału osobowego społeczeństwa, b) w wąskim ujęciu kwestie społeczne to konkretne problemy o szczególnie wysokim stopniu dotkliwości dla życia i współdziałania członków danej społeczności,

- c) źródła kwestii społecznych tkwią w siłach przyrody czy w wypadkach losowych,
- d) kwestie społeczne mają charakter masowy

Ubóstwo względne:

- a) uwzględnia porównanie pozycji ubogich w strukturze społecznej danego kraju,
- b) jego pomiar polega na określeniu wartości dochodów potrzebnych do zakupu dóbr i usług zaspokajających niezbędne potrzeby,
- c) informuje o realnej deprivacji potrzeb,
- d) do jego pomiaru wykorzystuje się takie wskaźniki jak PKB na 1 os

Zaznacz zdanie prawdziwe:

- a) wiodącą dyscypliną naukową zajmującą się problematyką wykluczenia społecznego jest ekonomia.
- b) wykluczenie społeczne rozumiane jest jako synonim ubóstwa
- c) przy pomiarze ubóstwa wykorzystuje się przede wszystkim metody jakościowe,
- d) ubóstwo narusza przede wszystkim prawa obywatelskie, a wykluczenie społeczne - prawa socjalne

Zaznacz zdanie nieprawdziwe:

- a) pomoc społeczna jest elementem systemu zabezpieczenia społecznego;
- b) najważniejszym zadaniem pomocy społecznej jest podejmowanie działań zmierzających do życiowego usamodzielnienia jej klientów,
- c) świadczenia pieniężne z pomocy społecznej to m.in. zasiłek stały, celowy i okresowy,
- d) najważniejszą jednostką organizacyjną pomocy społecznej jest Powiatowe Centrum Pomocy Rodzinie

Ulga podatkowa na dzieci:

- a) przysługuje tylko na co drugie dziecko,
- b) przysługuje na dziecko w wieku 26 lat, jeśli się uczy lub studiuje,
- c) nie przysługuje na dziecko, jeśli otrzymuje ono zasiłek pielęgnacyjny,
- d) jest odliczana od podatku, pomniejszonego wcześniej o składki ubezpieczenia zdrowotnego.

Zaznacz zdanie prawdziwe:

- a) przy ubieganiu się o zasiłek rodzinny nie obowiązuje kryterium dochodowe,
- b) zasiłek rodzinny przysługuje do ukończenia przez dziecko 25 roku życia, jeśli się uczy lub studiuje,
- c) zasiłek rehabilitacyjny przysługuje rodzicom z tytułu rezygnacji z zatrudnienia lub niepodjęciem zatrudnienia w związku z koniecznością opieki nad dzieckiem legitymującym się orzeczeniem o niepełnosprawności,
- d) informacji o świadczeniach rodzinnych udziela gmina i PCPR

Narodowe Spisy Powszechne w Polsce:

- a) są organizowane przez Regionalne Ośrodki Polityki Społecznej,
- b) ich wyniki mogą być wykorzystywane do celów gospodarczych,
- c) są przeprowadzane w ściśle określonym momencie, takim samym dla całego obszaru spisu (tzw. moment krytyczny spisu),
- d) ostatni spis powszechny był przeprowadzony w Polsce w 2004 r

Bezrobotnym według prawa polskiego może być osoba:

<ul style="list-style-type: none"> a) pełnosprawna niezatrudniona i niewykonywująca innej pracy zarobkowej, zdolna i gotowa do podjęcia zatrudnienia co najmniej w połowie wymiaru czasu pracy, b) osoba tymczasowo aresztowana, c) która nie ukończyła 60 lat - kobieta lub 65 lat – mężczyzna, d) studiująca w trybie dziennym
<p>Zaznacz zdanie prawdziwe:</p> <ul style="list-style-type: none"> a) minimum egzystencji wyznacza granicę, poniżej której występuje biologiczne zagrożenie życia oraz rozwoju psychofizycznego człowieka, b) minimum socjalne uwzględnia tylko dwie grupy potrzeb: bytowo-egzystencjalnych oraz rekreacyjno-wypoczynkowych, c) minimum egzystencji jest przykładem relatywnej linii ubóstwa, d) koszyk minimum egzystencji nie uwzględnia kosztów edukacji dzieci w zakresie podstawowym
<p>W ramach polityki przemysłowej uważa się, że należy popierać</p> <ul style="list-style-type: none"> a) Gałęzie osiągające niską wartość dodaną na jednego zatrudnionego b) Gałęzie osiągające dużą wartość dodaną na jednego zatrudnionego c) Gałęzie osiągające stałą wartość dodaną na jednego zatrudnionego d) Żadne z powyższych
<p>W ramach polityki przemysłowej uważa się, że należy popierać</p> <ul style="list-style-type: none"> a) Gałęzie nie będące podporą rozwoju innych gałęzi przemysłu b) Gałęzie schyłkowe c) Gałęzie będące podporą rozwoju innych gałęzi przemysłu d) Żadne z powyższych
<p>W ramach polityki przemysłowej uważa się, że należy popierać</p> <ul style="list-style-type: none"> a) Gałęzie przemysłu wysokiej technologii b) Gałęzie przemysłu niskiej technologii c) Gałęzie przemysłu średniowysokiej technologii d) Gałęzie przemysłu średnioniskiej technologii
<p>Regiony strefowe</p> <ul style="list-style-type: none"> a) Mają prostą złożoną i zróżnicowaną b) Mają prostą złożoną i jednorodną c) Mają strukturę złożoną i zróżnicowaną d) Żadne z powyższych
<p>Region węzłowy jest jednostką terytorialną, w obrębie której można wyróżnić</p> <ul style="list-style-type: none"> a) Część centralną, nie odgrywającą aktywnej roli i koncentrującą działalność społeczno-gospodarczą oraz obszary peryferyjne, stanowiące centrum działalności b) Część centralną, odgrywającą aktywną rolę i koncentrującą działalność społeczno-gospodarczą oraz obszary peryferyjne, stanowiące zaplecze dla centrum c) Część centralną, odgrywającą aktywną rolę i koncentrującą działalność społeczno-gospodarczą oraz obszary peryferyjne, stanowiące mniejsze centra d) Żadne z powyższych
<p>Urząd Statystyczny Wspólnot Europejskich opracował podział terytorium wspólnotowego na jednostki <i>Nomenclature des Unités Territoriales Statistiques</i>, czyli</p>

<ul style="list-style-type: none"> a) NTUS b) NUTS c) NSUT d) LAU
<p>Poziomowi NUTS 2 w Polsce odpowiadają</p> <ul style="list-style-type: none"> a) województwa b) gminy c) powiaty d) miasta
<p>Ze względu na występujące problemy społeczno-ekonomiczne wyróżnia się m.in. Następujące rodzaje regionów</p> <ul style="list-style-type: none"> a) uprzemysłowione, rolnicze, turystyczne b) zharmonizowane, peryferyjne, centralne c) rozwinięte, depresji, rozwijające się harmonijnie, problemowe d) federalne, unitarne, zregionalizowane
<p>W obserwowanych ostatnio procesach decentralizacji władzy państwowej następuje proces decentralizacji polityki regionalnej i</p> <ul style="list-style-type: none"> a) spadek znaczenia polityki intraregionalnej b) wzrost znaczenia polityki interregionalnej c) spadek znaczenia polityki regionalnej d) wzrost znaczenia polityki intraregionalnej
<p>W stosunku do regionów depresyjnych konieczne są</p> <ul style="list-style-type: none"> a) operacje polegające na restrukturyzacji b) operacje powstrzymujące dewastację środowiska naturalnego c) działania wzmacniające rozwój rolnictwa d) działania wzmacniające rozwój schyłkowych gałęzi przemysłu
<p>Rachunek przepływów pieniężnych może być sporządzany dwiema metodami:</p> <ul style="list-style-type: none"> a) Złotą i srebrną b) Pośrednią i bezpośrednią c) Kapitałową i majątkową d) Ilościową i jakościową
<p>Pozioma analiza cash flow, to:</p> <ul style="list-style-type: none"> a) Porównywanie rachunków przepływów pieniężnych w czasie b) Porównywanie, w którym obszarze firma generuje gotówkę c) Określenie jak wygląda gospodarka środkami pieniężnymi w działalności operacyjnej d) Analiza wydatków środków pieniężnych na cele inwestycyjne
<p>Przewaga wpływów nad wypływami gotówki w obszarze inwestycyjnym może oznaczać:</p> <ul style="list-style-type: none"> a) Pozyskiwanie gotówki z emisji akcji b) Zmniejszenie poziomu zapasów c) Zwiększenie zobowiązań z tytułu kredytów d) Sprzedaż części majątku firmy
<p>Przewaga wpływów nad wypływami gotówki w obszarze operacyjnym może oznaczać:</p> <ul style="list-style-type: none"> a) Zmniejszenie stanu należności b) Zwiększenie zobowiązań z tytułu dostaw

<ul style="list-style-type: none"> c) Zmniejszenie zobowiązań krótkoterminowych d) Dodatkową emisję akcji
<p>Relacja zysku brutto do zysku z działalności operacyjnej informuje o:</p> <ul style="list-style-type: none"> a) Tym, ile firma osiągnęła zysku w pozostałych obszarach działalności b) Zdolności do regulowania zobowiązań c) Rentowności kapitałów własnych d) Oceny zadłużenia spółki
<p>W układzie porównawczym rachunku zysków i strat koszty podzielone są na:</p> <ul style="list-style-type: none"> a) Stałe i zmienne b) Pośrednie i bezpośrednie c) Układy rodzajowe d) Jednostkowe i zagregowane
<p>Co nie wchodzi w zakres pozostałej działalności operacyjnej?</p> <ul style="list-style-type: none"> a) Działalność socjalna b) Darowizny c) Sprzedaż części majątku d) Koszt zużycia zapasów
<p>Najbardziej syntetycznym wskaźnikiem płynności finansowej jest:</p> <ul style="list-style-type: none"> a) Wskaźnik płynności bieżącej b) Wskaźnik płynności szybkiej c) Wskaźnik płynności gotówkowej d) Wskaźnik kapitału obrotowego netto
<p>Który wskaźnik płynności finansowej nazywany jest testem kwasowości (acid test)?</p> <ul style="list-style-type: none"> a) Wskaźnik płynności bieżącej b) Wskaźnik płynności szybkiej c) Wskaźnik płynności gotówkowej d) Wskaźnik kapitału obrotowego netto
<p>Płynność w ujęciu dynamicznym jest oparta na danych pochodzących z:</p> <ul style="list-style-type: none"> a) Bilansu b) Rachunku zysków i strat c) Rachunku przepływów pieniężnych d) Informacji dodatkowej
<p>Kiedy Rada Ministrów opracowuje w ciągu roku budżetowego program sanacyjny?</p> <ul style="list-style-type: none"> a) po przekroczeniu pierwszego progu ostrożnościowego b) po przekroczeniu drugiego progu ostrożnościowego c) po przekroczeniu trzeciego progu ostrożnościowego d) żadne z powyższych
<p>Rzeczpospolita Polska jest:</p> <ul style="list-style-type: none"> a) federacją b) księstwem c) republiką d) żadne z powyższych
<p>Sprzedawca sprzedaje towary korzystając ze stawki zwolnionej z opodatkowania (mowa o podatku od towarów i usług) Wówczas:</p> <ul style="list-style-type: none"> a) podatek naliczony jest neutralny b) podatek naliczony jest przerzucany c) nie ma podatku naliczonego d) żadne z powyższych

<p>Termin wykupu obligacji to czas</p> <ul style="list-style-type: none"> a) liczony od jej wystawienia do dnia bieżącego b) pozostały do wykupu obligacji c) liczony od jej wystawienia do dnia wykupu obligacji d) żadne z powyższych
<p>Samorządowy zakład budżetowy wpłaca do budżetu jednostki samorządu terytorialnego:</p> <ul style="list-style-type: none"> a) wszystkie dochody pobrane w ciągu roku budżetowego b) połowę nadwyżki środków obrotowych, ustalonych na koniec okresu sprawozdawczego c) nadwyżkę środków obrotowych, ustalonych na koniec okresu sprawozdawczego d) żadne z powyższych
<p>Koszty ujęte w rocznych planach finansowych <u>nie mogą</u> ulec podwyższeniu, jeśli:</p> <ul style="list-style-type: none"> a) zrealizowano przychody wyższe od prognozowanych b) zwiększenie kosztów nie spowoduje zwiększenia dotacji z budżetu c) zwiększenie kosztów nie spowoduje zwiększenia planowanego stanu zobowiązań d) żadne z powyższych
<p>Który organ nie jest organem konstytucyjnym?</p> <ul style="list-style-type: none"> a) KRRiT b) Rzecznik Praw Obywatelskich c) Rzecznik Praw Dziecka d) Regionalne Izby Obrachunkowe
<p>Pojęcie PKB jest</p> <ul style="list-style-type: none"> a) szersze niż pojęcie dochodu narodowego b) węższe niż pojęcie dochodu narodowego c) to pojęcia tożsame d) żadne z powyższych
<p>Negatywne konsekwencje zasady jednoroczności budżetu mogą być osłabiane w drodze powołania</p> <ul style="list-style-type: none"> a) jednostek budżetowych b) zakładów budżetowych c) funduszy celowych d) żadne z powyższych
<p>Wskaż podmiot państwowego sektora gospodarczego</p> <ul style="list-style-type: none"> a) jednostka budżetowa b) bank państwowy c) Narodowy Bank Polski d) żadne z powyższych
<p>Państwem założycielskim wspólnot europejskich jest:</p> <ul style="list-style-type: none"> a) Wielka Brytania, b) Hiszpania, c) Dania, d) Holandia.

<p>Polska jest członkiem Unii od roku:</p> <ul style="list-style-type: none"> a) 1997, b) 2003, c) 2004, d) 2007.
<p>Swoboda przepływu kapitału i płatności w Unii została najwcześniej wprowadzona w życie w odniesieniu do:</p> <ul style="list-style-type: none"> a) długoterminowych pożyczek, b) zagranicznych inwestycji bezpośrednich, c) wywozu i przywozu gotówki, d) przelewów z bieżących rachunków bankowych.
<p>Fundusz Spójności finansuje:</p> <ul style="list-style-type: none"> a) wydatki w zakresie wspólnej polityki rolnej, b) wydatki socjalne, c) programy zwalczania wykluczenia społecznego, d) projekty w zakresie ochrony środowiska i infrastruktury transportowej w najsłabiej rozwiniętych państwach członkowskich.
<p>Przedmiotem paktu na rzecz stabilności i wzrostu jest:</p> <ul style="list-style-type: none"> a) procedura dotycząca nadmiernego deficytu, b) ogólne kierunki polityki gospodarczej Unii i państw członkowskich, c) europejska strategia zatrudnienia, d) koordynacja polityki pieniężnej w państwach członkowskich objętych derogacją.
<p>W latach 2007-2013 celami polityki regionalnej Unii są:</p> <ul style="list-style-type: none"> a) konwergencja, konkurencyjność regionalna i zatrudnienie oraz europejska współpraca terytorialna, b) konwergencja i konkurencyjność regionalna oraz wspieranie rozwoju obszarów wiejskich, c) wspieranie rozwoju obszarów wiejskich oraz konkurencyjność regionalna i zatrudnienie, d) konwergencja, konkurencyjność regionalna i zatrudnienie, europejska współpraca terytorialna oraz wspieranie rozwoju obszarów wiejskich.
<p>Cena interwencyjna na rynkach rolnych wywołuje takie skutki, jak:</p> <ul style="list-style-type: none"> a) obniżka cen rynkowych, a) wzrost cen rynkowych oraz powstanie nadwyżek rolnych, b) nie wpływa na popyt i podaż na rynkach rolnych, c) poprawa dobrobytu konsumentów.
<p>Europejski Fundusz Rozwoju Regionalnego powstał w roku:</p> <ul style="list-style-type: none"> a) 1958, b) 1975, c) 1987 wraz z ustanowieniem podstaw traktatowych polityki regionalnej Unii, d) 1993 na mocy Traktatu o UE.
<p>Potencjalnie najmniejsze negatywne skutki dla środowiska powoduje następujący instrument wspólnej polityki rolnej:</p> <ul style="list-style-type: none"> a) cena minimalna, b) cena gwarantowana, c) pomoc bezpośrednia uzależniona od wielkości produkcji rolnej, d) pomoc bezpośrednia uzależniona od powierzchni gospodarstwa rolnego.
<p>W Unii kompetencje prawodawcze mają:</p> <ul style="list-style-type: none"> a) wyłącznie Parlament Europejski i Rada, b) zarówno Parlament Europejski i Rada, jak i Komisja,

<ul style="list-style-type: none"> c) wyłącznie Rada, d) wyłącznie Parlament Europejski.
<p>W państwach unitarnych kompetencje regionów są wyrazem</p> <ul style="list-style-type: none"> a) uprawnień rządu centralnego b) uprawnień władz lokalnych c) uprawnień rządu centralnego i władz lokalnych d) żadne z powyższych
<p>W Belgii konstytucja przyznaje prawo do zawierania umów międzynarodowych</p> <ul style="list-style-type: none"> a) rządowi centralnemu b) regionom c) wspólnotom językowym d) zrzeszeniom regionów
<p>Z punktu widzenia Unii Europejskiej regionem jest jednostka</p> <ul style="list-style-type: none"> a) NUTS 2 b) NUTS 3 c) LAU 1 d) LAU 2
<p>Pojęcie polityki regionalnej pojawiło się w</p> <ul style="list-style-type: none"> a) Traktacie Lizbońskim b) Traktacie z Maastricht c) Jednolitym Akcie Europejskim d) Traktacie Rzymskim
<p>Traktat z Maastricht a pozycja regionów</p> <ul style="list-style-type: none"> a) Uległa wzmocnieniu b) Uległa osłabieniu c) Pozostała bez zmian d) Brak zapisów dotyczących regionów
<p>Czy następujące zdanie jest prawdziwe: Polityka regionalna i strukturalna Unii Europejskiej nie jest wyrazem solidarności bogatszych krajów członkowskich (i ich regionów) z krajami (regionami) względnie uboższymi</p> <ul style="list-style-type: none"> a) Prawda b) Fałsz c) Tylko w stosunku do krajów 15UE d) Nie mam zdania
<p>Pierwszymi funduszami w ramach realizacji polityki regionalnej były:</p> <ul style="list-style-type: none"> a) Europejski Fundusz Społeczny i Europejski Fundusz Orientacji i Gwarancji Rolnej b) Europejski Fundusz Społeczny i Europejski Fundusz Rozwoju Regionalnego c) Europejski Fundusz Rozwoju Regionalnego i Fundusz Spójności d) Europejski Fundusz Społeczny i Fundusz Solidarności
<p>Zasada współfinansowania oznacza, że</p> <ul style="list-style-type: none"> a) środki wspólnotowe nie mogą uzupełniać środków krajowych, b) środki wspólnotowe mogą uzupełniać - a nie zastępować środki krajowe, udział środków wspólnotowych w całkowitych kosztach danego projektu może wynosić, w zależności od celu, do 25 proc c) środki wspólnotowe mogą uzupełniać - a nie zastępować środki krajowe, udział środków wspólnotowych w całkowitych kosztach danego projektu może wynosić, w zależności od celu, od 25 do 75 proc

d) środki wspólnotowe mogą zastępować środki krajowe
<p>Pomoc z Funduszu Spójności jest przeznaczona na finansowanie projektów w dziedzinie</p> <ol style="list-style-type: none"> ochrony środowiska i inwestycje w infrastrukturę transportową państw infrastruktury technicznej i rozwój kapitału ludzkiego rynku pracy i zwalczania bezrobocia żaden z wymienionych
<p>Jaki zakres finansowania ma Fundusz Spójności</p> <ol style="list-style-type: none"> lokalny subregionalny horyzontalny regionalny
<p>Nieformalne wzory komunikowania się mogą przyjmować formę</p> <ol style="list-style-type: none"> „każdy z każdym” „koła” „łańcucha” zarządzania przez krążenie w firmie
<p>Zdecentralizowane sieci komunikowania się charakteryzują</p> <ol style="list-style-type: none"> przesłanie małej ilości informacji szybsze i dokładniejsze wykonywanie złożonych zadań występowanie lidera na centralnej pozycji niski poziom satysfakcji członków zespołu
<p>O skutecznym procesie komunikacyjnym możemy mówić wtedy, gdy występuje</p> <ol style="list-style-type: none"> szum komunikacyjny sprzężenie zwrotne hallo efekt nadawca i odbiorca
<p>Autonomizacją celów nazywa się zjawisko polegające na</p> <ol style="list-style-type: none"> koncentracji na celach ubocznych czy pośrednich kosztem celów głównych lub końcowych tworzeniu autonomicznych zespołów, których celem jest realizacja założonych celów identyfikacji celów operacyjnych, bez uwzględnienia celów taktycznych dążeniu do wysokiej skuteczności w realizacji celów
<p>Cele organizacyjne najwyższego rzędu dotyczą</p> <ol style="list-style-type: none"> maksymalizacji zysków konkretnych zamierzeń i przedsięwzięć przetrwania i rozwoju realizacji funkcji na rzecz otoczenia
<p>Wiązka celów to</p> <ol style="list-style-type: none"> cele, które służą osiągnięciu celów taktycznych cele, które zostały wyznaczone przez najwyższe kierownictwo graficzny obraz celów organizacji wiele różnych celów w ramach jednego działania
<p>Wizja organizacji</p> <ol style="list-style-type: none"> powinna zawierać opis klientów, produktów, usług, technologii oraz wizerunek firmy to przyszły obraz miejsca i roli naszego przedsięwzięcia w otaczającym nas świecie to jest podstawowy, niepowtarzalny cel, który wyróżnia ją wśród innych firm tego typu odpowiada m.in. na pytania: po co istniejemy? do czego dążymy? co mamy osiągnąć? czyje (podmiotowo) i jakie (przedmiotowo) potrzeby zaspokajamy?
<p>Racjonalność przy ustalaniu celów oznacza, że</p> <ol style="list-style-type: none"> cel powinien być zrozumiały dla wszystkich członków organizacji wyznaczenie celu musi mieć określone kryterium jego oceny cel powinien być zaakceptowany przez realizatorów

